




وقت



گھڑی ہمیں وقت بتاتی ہے۔

اس کی ایک منٹ کی سوئی اور ایک گھنٹا کی سوئی ہوتی ہے۔

بڑی سوئی منٹ کی سوئی کہلاتی ہے، جو منٹ کو ظاہر کرتی ہے۔

چھوٹی سوئی گھنٹا کی سوئی کہلاتی ہے۔

یہ گھنٹوں کو ظاہر کرتی ہے۔

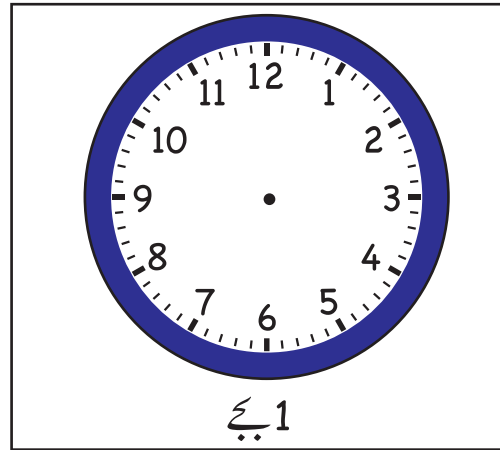
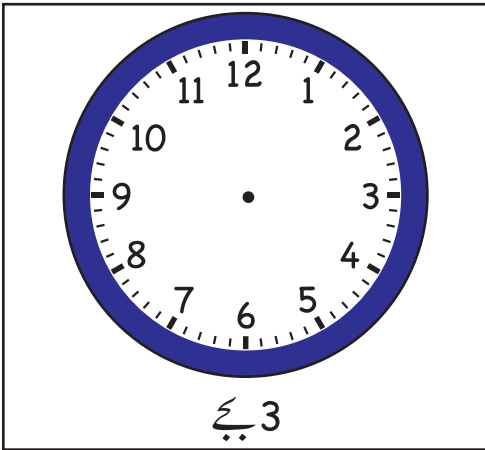
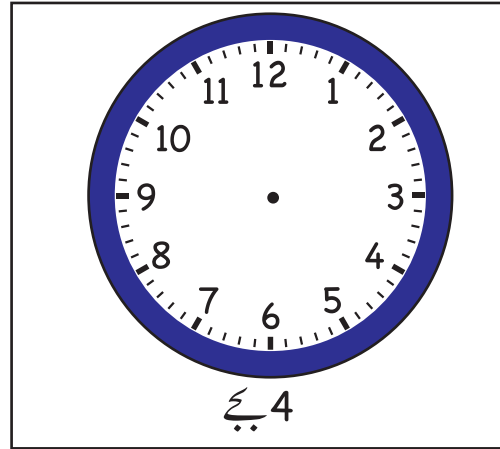
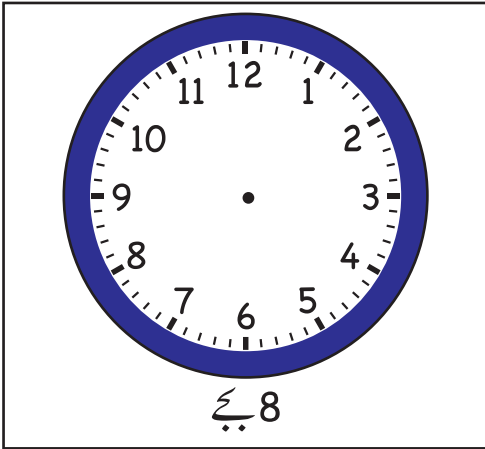
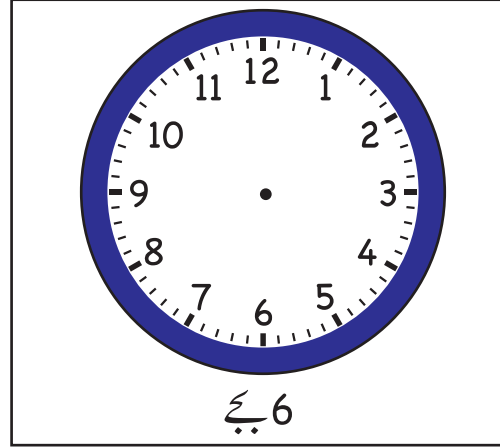
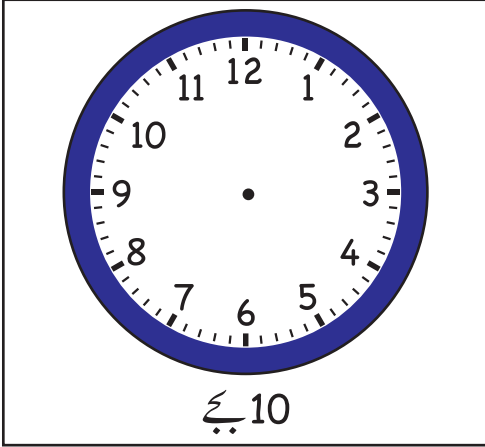
جب منٹ کی سوئی 12 کی طرف ہوتی ہے۔

تو اسے ہم '0' کلاک کہتے ہیں۔


گھڑیوں کو درست وقت سے ملائیں۔

	9 بجے
	11 بجے
	5 بجے

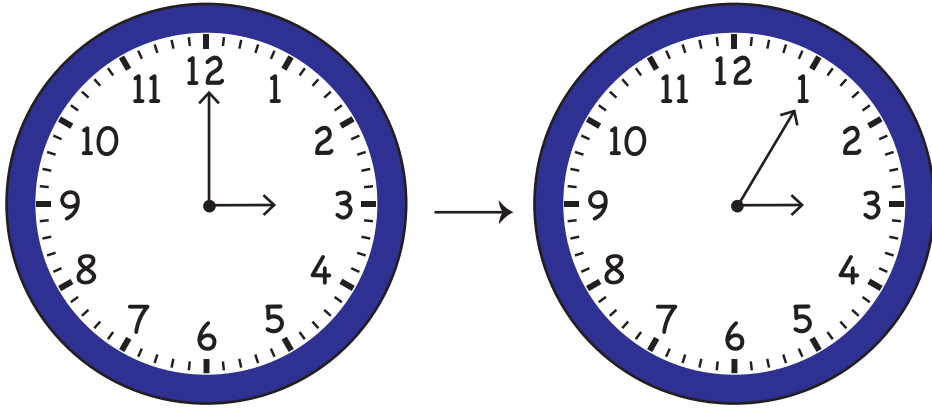
وقت پڑھ کر گھڑی پر سوئیاں بنائیں۔



اس گھڑی کو غور سے دیکھیں۔



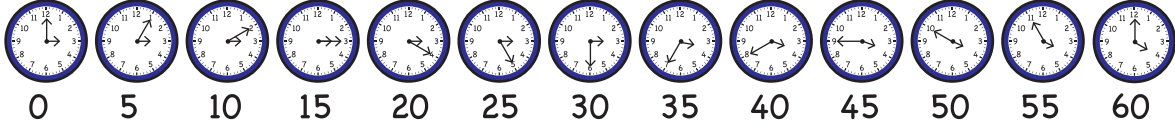
منٹ کی سوئی 12 پر ہے۔ اور گھنٹوں کی سوئی 3 پر ہے۔
منٹ کی سوئی 12 سے 1 کی جانب حرکت کرتی ہے۔
جب وہ 1 پر پہنچے گی تو 5 منٹ ہو جائیں گے۔



اسی طرح اُسے 2 پر پہنچنے میں مزید 5 منٹ لگیں گے اور اسی طرح


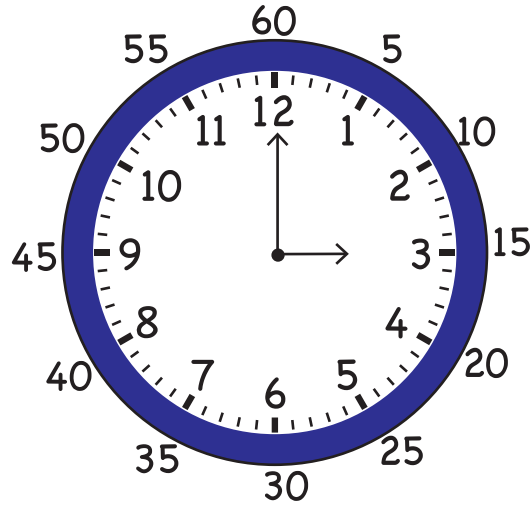
بڑی سوئی کی حرکت منٹوں میں ہوتی ہے۔

کتنے منٹ ہوئے؟
آؤ '5'، '5' کر کے گنیں۔



گھنٹے کی سوئی کو 3 سے 4 تک پہنچنے میں '60' منٹ لگتے ہیں۔

1 گھنٹا = 60 منٹ




اس گھڑی کو غور سے دیکھیں۔

گھنٹا کی سوئی '3' پر ہے۔

منٹ کی سوئی '1' پر ہے۔

اس کا مطلب ہے 3 بج کر 5 منٹ

اس گھڑی کو غور سے دیکھیں۔



گھنٹے کی سوئی 3 پر ہے۔ ہم بائیں طرف 3 لکھتے ہیں۔

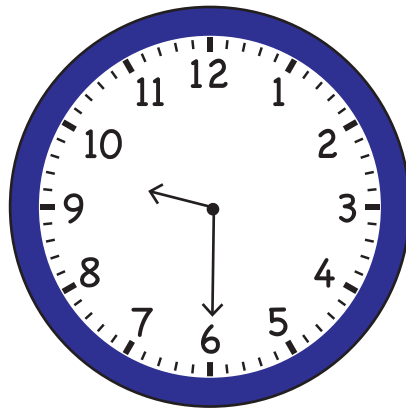
3 :

منٹ کی سوئی 2 پر ہے۔

اس کا مطلب ہے 3 بج کر 10 منٹ ہوئے ہیں۔







3 : 10

اسے ہم 3 بج کر 10 منٹ پڑھتے ہیں۔



گھڑی پر وقت 9:30 ہے۔ ہم اسے 9 بج کر 30 منٹ پڑھتے ہیں۔

گھڑی کو غور سے دیکھیں۔ ہر گھڑی کے نیچے وقت لکھیں۔





علی صبح 8:15 پر اٹھتا ہے۔



علی رات کو 8:15 پر سو جاتا ہے۔

جب علی اٹھتا ہے ہم اس وقت کو 8:15 am کہتے ہیں۔

جب علی سوتا ہے ہم اس وقت کو 8:15 pm کہتے ہیں۔

ہم رات 12 بجے کے بعد اور دن کے 12 بجے سے پہلے وقت کے ساتھ am استعمال کرتے ہیں۔

دن کے 12 بجے کے بعد اور رات 12 بجے سے پہلے کے وقت کے ساتھ Pm استعمال کرتے ہیں۔

جملہ پڑھ کر درست جواب کے گرد دائرہ لگائیں۔

am	pm
am	pm
am	pm

ہم..... 8 پر سکول جاتے ہیں۔

زارا..... 9 پر ناشتہ کرتی ہے۔

میں..... 10 پر سو جاتا ہے۔

سال کے مہینے

علی کی سالگرہ اپریل میں ہوتی ہے زارا کی سالگرہ جولائی میں ہوتی ہے۔

اپریل اور جولائی مہینوں کے نام ہیں۔

ایک سال میں
12 مہینے ہوتے ہیں۔

کیا آپ نے کیلنڈر دیکھ لیا ہے؟

یہ تمام مہینوں اور دنوں کو ظاہر کرتا ہے۔

اپریل							مارچ							فروری							جنوری						
S	M	T	W	T	F	S	S	M	T	W	T	F	S	S	M	T	W	T	F	S	S	M	T	W	T	F	S
			1	2	3	4	1	2	3	4	5	6	7	1	2	3	4	5	6	7					1	2	3
5	6	7	8	9	10	11	8	9	10	11	12	13	14	8	9	10	11	12	13	14	4	5	6	7	8	9	10
12	13	14	15	16	17	18	15	16	17	18	19	20	21	15	16	17	18	19	20	21	11	12	13	14	15	16	17
19	20	21	22	23	24	25	22	23	24	25	26	27	28	22	23	24	25	26	27	28	18	19	20	21	22	23	24
26	27	28	29	30			29	30	31												25	26	27	28	29	30	31

اگست							جولائی							جون							مئی								
S	M	T	W	T	F	S	S	M	T	W	T	F	S	S	M	T	W	T	F	S	S	M	T	W	T	F	S		
30	31					1				1	2	3	4				1	2	3	4	5	6						1	2
2	3	4	5	6	7	8	5	6	7	8	9	10	11	7	8	9	10	11	12	13	3	4	5	6	7	8	9		
9	10	11	12	13	14	15	12	13	14	15	16	17	18	14	15	16	17	18	19	20	10	11	12	13	14	15	16		
16	17	18	19	20	21	22	19	20	21	22	23	24	25	21	22	23	24	25	26	27	17	18	19	20	21	22	23		
23	24	25	26	27	28	29	26	27	28	29	30			28	29	30				24	25	26	27	28	29	30			

دسمبر							نومبر							اکتوبر							ستمبر							
S	M	T	W	T	F	S	S	M	T	W	T	F	S	S	M	T	W	T	F	S	S	M	T	W	T	F	S	
		1	2	3	4	5	1	2	3	4	5	6	7					1	2	3				1	2	3	4	5
6	7	8	9	10	11	12	8	9	10	11	12	13	14	4	5	6	7	8	9	10	6	7	8	9	10	11	12	
13	14	15	16	17	18	19	15	16	17	18	19	20	21	11	12	13	14	15	16	17	13	14	15	16	17	18	19	
20	21	22	23	24	25	26	22	23	24	25	26	27	28	18	19	20	21	22	23	24	20	21	22	23	24	25	26	
27	28	29	30	31			29	30						25	26	27	28	29	30	31	27	28	29	30				

جنوری کے بعد کون سا مہینہ آتا ہے؟

جولائی سے پہلے کون سا مہینہ آتا ہے؟