

تفریق



47 اور 13 کا فرق معلوم کیجیے۔

$$\begin{array}{r} \text{اکائیاں} \quad \text{دہائیاں} \\ 4 \quad 7 \\ - 1 \quad 3 \\ \hline \end{array}$$

پہلا قدم:

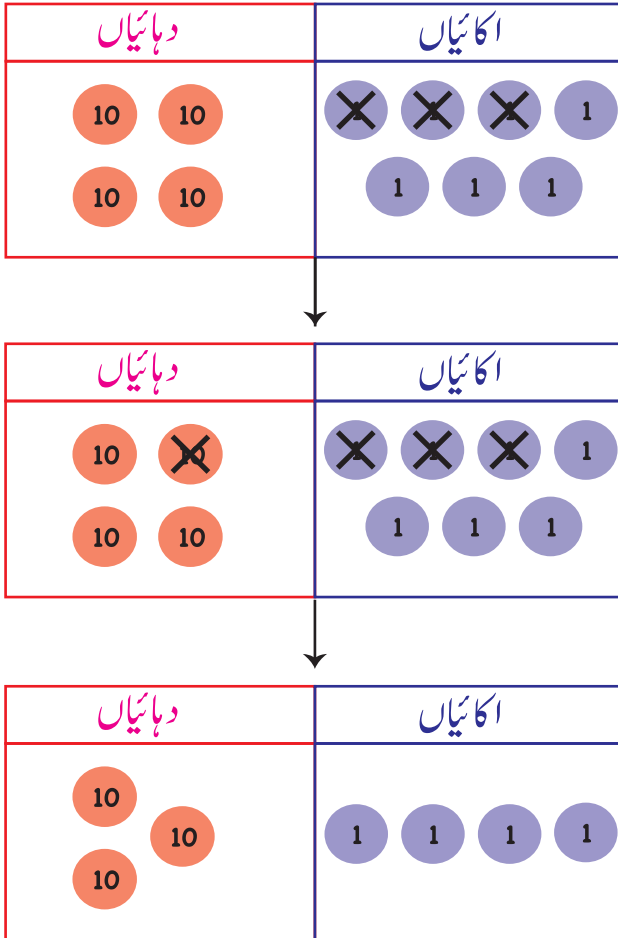
اکائیوں کا فرق لیجیے۔

$$\begin{array}{r} \text{اکائیاں} \quad \text{دہائیاں} \\ 4 \quad 7 \\ - 1 \quad 3 \\ \hline 4 \end{array}$$

دوسرا قدم:

دہائیوں کا فرق لیجیے۔

$$\begin{array}{r} \text{اکائیاں} \quad \text{دہائیاں} \\ 4 \quad 7 \\ - 1 \quad 3 \\ \hline 3 \quad 4 \end{array}$$



درج ذیل اعداد کا فرق معلوم کیجیے۔

$$\begin{array}{r} \text{اکائیاں} \quad \text{دہائیاں} \\ 4 \quad 8 \\ - 2 \quad 6 \\ \hline \end{array}$$

$$\begin{array}{r} \text{اکائیاں} \quad \text{دہائیاں} \\ 6 \quad 7 \\ - 1 \quad 3 \\ \hline \end{array}$$

$$\begin{array}{r} \text{اکائیاں} \quad \text{دہائیاں} \\ 5 \quad 9 \\ - 2 \quad 3 \\ \hline \end{array}$$

$$\begin{array}{r} \text{اکائیاں} \quad \text{دہائیاں} \\ 5 \quad 4 \\ - 3 \quad 1 \\ \hline \end{array}$$

$$\begin{array}{r} \text{اکائیاں} \quad \text{دہائیاں} \\ 3 \quad 6 \\ - 2 \quad 4 \\ \hline \end{array}$$

$$\begin{array}{r} \text{اکائیاں} \quad \text{دہائیاں} \\ 8 \quad 5 \\ - 6 \quad 1 \\ \hline \end{array}$$

$$\begin{array}{r} \text{اکائیاں} \quad \text{دہائیاں} \\ 6 \quad 8 \\ - 2 \quad 7 \\ \hline \end{array}$$

$$\begin{array}{r} \text{اکائیاں} \quad \text{دہائیاں} \\ 4 \quad 8 \\ - 3 \quad 2 \\ \hline \end{array}$$



$$\begin{array}{r} \text{اکائیاں} \quad \text{دہائیاں} \\ 7 \quad 9 \\ - 5 \quad 2 \\ \hline \end{array}$$


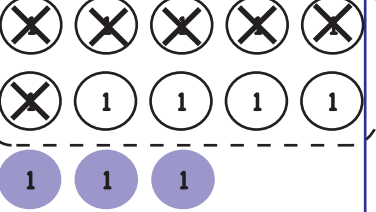
$$\begin{array}{r} \text{اکائیاں} \quad \text{دہائیاں} \\ 6 \quad 5 \\ - 1 \quad 3 \\ \hline \end{array}$$

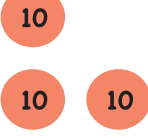
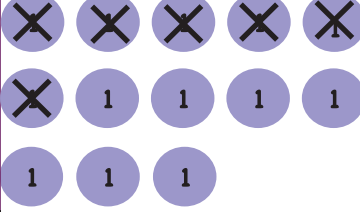
$$\begin{array}{r} \text{اکائیاں} \quad \text{دہائیاں} \\ 5 \quad 6 \\ - 3 \quad 4 \\ \hline \end{array}$$


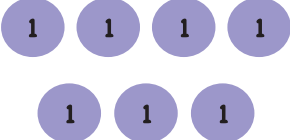
$$\begin{array}{r} \text{اکائیاں} \quad \text{دہائیاں} \\ 8 \quad 3 \\ - 4 \quad 2 \\ \hline \end{array}$$

43 اور 6 کا فرق معلوم کیجیے۔

دہائیاں	اکائیاں
	

دہائیاں	اکائیاں
	

دہائیاں	اکائیاں
	

دہائیاں	اکائیاں
	

$$\begin{array}{r}
 \text{دہائیاں} \quad \text{اکائیاں} \\
 4 \quad 3 \\
 - \quad 6 \\
 \hline
 \hline
 \end{array}$$

پہلا قدم:

اکائیوں کا فرق لیجیے۔

$$\begin{array}{r}
 \text{دہائیاں} \quad \text{اکائیاں} \\
 3 \quad 4 \quad 13 \\
 - \quad 6 \\
 \hline
 7
 \end{array}$$

3 میں سے 6 تفریق نہیں کیا سکتا۔

4 دہائیوں میں 1 دہائی لیتے ہیں اور

3 + 10 یعنی 13 اکائیاں بنا لیتے ہیں۔

$$13 - 7 = 6 \text{ اور } 13 - 7 = 6 \text{ اکائیاں}$$

دوسرا قدم:

دہائیوں کا فرق لیتے ہیں بقیہ

3 دہائیاں ویسے ہی رہیں گی۔

$$\begin{array}{r}
 \text{دہائیاں} \quad \text{اکائیاں} \\
 3 \quad 4 \quad 13 \\
 - \quad 6 \\
 \hline
 3 \quad 7
 \end{array}$$

درج ذیل اعداد کا فرق معلوم کیجیے۔

$$\begin{array}{r} \text{اکائیاں} \quad \text{دہائیاں} \\ 2 \quad 3 \\ - \quad 7 \\ \hline \end{array}$$

$$\begin{array}{r} \text{اکائیاں} \quad \text{دہائیاں} \\ 1 \quad 4 \\ - \quad 8 \\ \hline \end{array}$$

$$\begin{array}{r} \text{اکائیاں} \quad \text{دہائیاں} \\ 4 \quad 6 \\ - \quad 5 \\ \hline \end{array}$$

$$\begin{array}{r} \text{اکائیاں} \quad \text{دہائیاں} \\ 4 \quad 1 \\ - \quad 8 \\ \hline \end{array}$$

$$\begin{array}{r} \text{اکائیاں} \quad \text{دہائیاں} \\ 4 \quad 5 \\ - \quad 7 \\ \hline \end{array}$$

$$\begin{array}{r} \text{اکائیاں} \quad \text{دہائیاں} \\ 3 \quad 7 \\ - \quad 8 \\ \hline \end{array}$$

$$\begin{array}{r} \text{اکائیاں} \quad \text{دہائیاں} \\ 2 \quad 6 \\ - \quad 8 \\ \hline \end{array}$$

$$\begin{array}{r} \text{اکائیاں} \quad \text{دہائیاں} \\ 5 \quad 8 \\ - \quad 7 \\ \hline \end{array}$$

$$\begin{array}{r} \text{اکائیاں} \quad \text{دہائیاں} \\ 3 \quad 1 \\ - \quad 5 \\ \hline \end{array}$$

$$\begin{array}{r} \text{اکائیاں} \quad \text{دہائیاں} \\ 2 \quad 2 \\ - \quad 6 \\ \hline \end{array}$$

$$\begin{array}{r} \text{اکائیاں} \quad \text{دہائیاں} \\ 1 \quad 3 \\ - \quad 8 \\ \hline \end{array}$$

$$\begin{array}{r} \text{اکائیاں} \quad \text{دہائیاں} \\ 5 \quad 4 \\ - \quad 6 \\ \hline \end{array}$$

75 اور 28 کا فرق معلوم کیجیے۔

دہائیاں	اکائیاں
10 10 10 10 10 10 10	1 1 1 1 1

$$\begin{array}{r} \text{دہائیاں} \quad \text{اکائیاں} \\ 7 \quad 5 \\ - 2 \quad 8 \\ \hline \end{array}$$

دہائیاں	اکائیاں															
10 10 10 10 10 10 10	<table border="1"> <tr> <td>×</td><td>×</td><td>×</td><td>×</td><td>×</td> </tr> <tr> <td>×</td><td>×</td><td>×</td><td>1</td><td>1</td> </tr> <tr> <td>1</td><td>1</td><td>1</td><td>1</td><td>1</td> </tr> </table>	×	×	×	×	×	×	×	×	1	1	1	1	1	1	1
×	×	×	×	×												
×	×	×	1	1												
1	1	1	1	1												

پہلا قدم:
اکائیوں کا فرق لیجیے۔

$$\begin{array}{r} \text{دہائیاں} \quad \text{اکائیاں} \\ \overset{6}{7} \quad \overset{1}{5} \\ - 2 \quad 8 \\ \hline 7 \end{array}$$

دہائیاں	اکائیاں																					
<table border="1"> <tr> <td>×</td><td>×</td><td>10</td> </tr> <tr> <td>10</td><td>10</td><td>10</td> </tr> </table>	×	×	10	10	10	10	<table border="1"> <tr> <td>×</td><td>×</td><td>×</td><td>×</td><td>×</td> </tr> <tr> <td>×</td><td>×</td><td>×</td><td>1</td><td>1</td> </tr> <tr> <td>1</td><td>1</td><td>1</td><td>1</td><td>1</td> </tr> </table>	×	×	×	×	×	×	×	×	1	1	1	1	1	1	1
×	×	10																				
10	10	10																				
×	×	×	×	×																		
×	×	×	1	1																		
1	1	1	1	1																		

دوسرا قدم:
دہائیوں کا فرق لیجیے۔

$$\begin{array}{r} \text{دہائیاں} \quad \text{اکائیاں} \\ \overset{6}{7} \quad \overset{1}{5} \\ - 2 \quad 8 \\ \hline 4 \quad 7 \end{array}$$

دہائیاں	اکائیاں
10 10 10 10	1 1 1 1 1 1 1

اعداد کا فرق معلوم کیجیے۔

$$\begin{array}{r} \text{اکائیاں} \quad \text{دہائیاں} \\ 5 \quad 7 \\ - 2 \quad 9 \\ \hline \end{array}$$

$$\begin{array}{r} \text{اکائیاں} \quad \text{دہائیاں} \\ 4 \quad 3 \\ - 2 \quad 6 \\ \hline \end{array}$$

$$\begin{array}{r} \text{اکائیاں} \quad \text{دہائیاں} \\ 8 \quad 1 \\ - 5 \quad 3 \\ \hline \end{array}$$

$$\begin{array}{r} \text{اکائیاں} \quad \text{دہائیاں} \\ 6 \quad 2 \\ - 2 \quad 7 \\ \hline \end{array}$$

$$\begin{array}{r} \text{اکائیاں} \quad \text{دہائیاں} \\ 3 \quad 5 \\ - 1 \quad 7 \\ \hline \end{array}$$

$$\begin{array}{r} \text{اکائیاں} \quad \text{دہائیاں} \\ 7 \quad 2 \\ - 4 \quad 8 \\ \hline \end{array}$$

$$\begin{array}{r} \text{اکائیاں} \quad \text{دہائیاں} \\ 9 \quad 1 \\ - 4 \quad 3 \\ \hline \end{array}$$

$$\begin{array}{r} \text{اکائیاں} \quad \text{دہائیاں} \\ 6 \quad 8 \\ - 1 \quad 9 \\ \hline \end{array}$$

$$\begin{array}{r} \text{اکائیاں} \quad \text{دہائیاں} \\ 6 \quad 2 \\ - 3 \quad 7 \\ \hline \end{array}$$

$$\begin{array}{r} \text{اکائیاں} \quad \text{دہائیاں} \\ 8 \quad 4 \\ - 2 \quad 7 \\ \hline \end{array}$$

$$\begin{array}{r} \text{اکائیاں} \quad \text{دہائیاں} \\ 7 \quad 1 \\ - 4 \quad 5 \\ \hline \end{array}$$

$$\begin{array}{r} \text{اکائیاں} \quad \text{دہائیاں} \\ 9 \quad 3 \\ - 2 \quad 6 \\ \hline \end{array}$$

285 اور 162 کا فرق معلوم کیجیے۔

سینکڑے	دہائیاں	اکائیاں
100 100	10 10 10 10 10 10 10 10	× × 1 1 1

پہلا قدم:
اکائیوں کا فرق لیجیے۔

$$\begin{array}{r} \text{اکائیاں} \quad \text{دہائیاں} \quad \text{سینکڑے} \\ 2 \quad 8 \quad 5 \\ - 1 \quad 6 \quad 2 \\ \hline 3 \end{array}$$

سینکڑے	دہائیاں	اکائیاں
100 100	× × × × × × 10 10	× × 1 1 1

دوسرا قدم:
دہائیوں کا فرق لیجیے۔

$$\begin{array}{r} \text{اکائیاں} \quad \text{دہائیاں} \quad \text{سینکڑے} \\ 2 \quad 8 \quad 5 \\ - 1 \quad 6 \quad 2 \\ \hline 2 \quad 3 \end{array}$$

سینکڑے	دہائیاں	اکائیاں
100 100	× × × × × × 10 10	× × 1 1 1

تیسرا قدم:

$$\begin{array}{r} \text{اکائیاں} \quad \text{دہائیاں} \quad \text{سینکڑے} \\ 2 \quad 8 \quad 5 \\ - 1 \quad 6 \quad 2 \\ \hline 1 \quad 2 \quad 3 \end{array}$$

سینکڑے	دہائیاں	اکائیاں
100	10 10	1 1 1

درج ذیل اعداد کا فرق معلوم کیجیے۔

اکائیاں دہائیاں سینکڑے

$$\begin{array}{r} 645 \\ - 321 \\ \hline \end{array}$$

اکائیاں دہائیاں سینکڑے

$$\begin{array}{r} 834 \\ - 512 \\ \hline \end{array}$$

اکائیاں دہائیاں سینکڑے

$$\begin{array}{r} 487 \\ - 162 \\ \hline \end{array}$$

اکائیاں دہائیاں سینکڑے

$$\begin{array}{r} 754 \\ - 321 \\ \hline \end{array}$$

اکائیاں دہائیاں سینکڑے

$$\begin{array}{r} 563 \\ - 210 \\ \hline \end{array}$$

اکائیاں دہائیاں سینکڑے

$$\begin{array}{r} 947 \\ - 536 \\ \hline \end{array}$$

اکائیاں دہائیاں سینکڑے

$$\begin{array}{r} 849 \\ - 416 \\ \hline \end{array}$$

اکائیاں دہائیاں سینکڑے

$$\begin{array}{r} 365 \\ - 142 \\ \hline \end{array}$$

اکائیاں دہائیاں سینکڑے

$$\begin{array}{r} 784 \\ - 251 \\ \hline \end{array}$$

اکائیاں دہائیاں سینکڑے

$$\begin{array}{r} 569 \\ - 247 \\ \hline \end{array}$$

اکائیاں دہائیاں سینکڑے

$$\begin{array}{r} 385 \\ - 152 \\ \hline \end{array}$$

اکائیاں دہائیاں سینکڑے

$$\begin{array}{r} 695 \\ - 273 \\ \hline \end{array}$$

292 اور 65 کا فرق معلوم کیجیے۔

$$\begin{array}{r} \text{اکائیاں} \quad \text{دہائیاں} \quad \text{سینکڑے} \\ 2 \quad 9 \quad 2 \\ - \quad \quad 6 \quad 5 \\ \hline 7 \end{array}$$

پہلا قدم:

اکائیوں میں سے اکائیاں تفریق کیجیے۔

$$\begin{array}{r} \text{اکائیاں} \quad \text{دہائیاں} \quad \text{سینکڑے} \\ 2 \quad \cancel{9}^8 \quad 2 \\ - \quad \quad 6 \quad 5 \\ \hline 7 \end{array}$$

2 میں 5 منہا نہیں ہو سکتا 9 دہائیوں میں 1 دہائی حاصل کر کے 2 اکائیوں کو 12 بنا لیتے ہیں۔ $12 - 5 = 7$

دوسرا قدم:

دہائیوں میں سے دہائیاں تفریق کیجیے۔

$$\begin{array}{r} \text{اکائیاں} \quad \text{دہائیاں} \quad \text{سینکڑے} \\ 2 \quad \cancel{9}^8 \quad 2 \\ - \quad \quad 6 \quad 5 \\ \hline 2 \quad 7 \end{array}$$

باقی 8 دہائیوں میں سے 6 دہائیاں تفریق کرتے ہیں۔

تیسرا قدم:

سینکڑوں میں سے سینکڑے تفریق کیجیے۔

$$\begin{array}{r} \text{اکائیاں} \quad \text{دہائیاں} \quad \text{سینکڑے} \\ 2 \quad \cancel{9}^8 \quad 2 \\ - \quad \quad 6 \quad 5 \\ \hline 2 \quad 2 \quad 7 \end{array}$$

درج ذیل اعداد کا فرق معلوم کیجیے۔

$$\begin{array}{r} \text{اکائیاں} \quad \text{دہائیاں} \quad \text{سینکڑے} \\ 1 \quad 6 \quad 3 \\ - \quad \quad 8 \quad 1 \\ \hline \end{array}$$

$$\begin{array}{r} \text{اکائیاں} \quad \text{دہائیاں} \quad \text{سینکڑے} \\ 1 \quad 8 \quad 5 \\ - \quad \quad 4 \quad 7 \\ \hline \end{array}$$

$$\begin{array}{r} \text{اکائیاں} \quad \text{دہائیاں} \quad \text{سینکڑے} \\ 3 \quad 9 \quad 1 \\ - \quad \quad 5 \quad 6 \\ \hline \end{array}$$

$$\begin{array}{r} \text{اکائیاں} \quad \text{دہائیاں} \quad \text{سینکڑے} \\ 5 \quad 1 \quad 7 \\ - \quad \quad 8 \quad 5 \\ \hline \end{array}$$

$$\begin{array}{r} \text{اکائیاں} \quad \text{دہائیاں} \quad \text{سینکڑے} \\ 6 \quad 5 \quad 3 \\ - \quad \quad 2 \quad 8 \\ \hline \end{array}$$

$$\begin{array}{r} \text{اکائیاں} \quad \text{دہائیاں} \quad \text{سینکڑے} \\ 8 \quad 3 \quad 1 \\ - \quad \quad 7 \quad 8 \\ \hline \end{array}$$

$$\begin{array}{r} \text{اکائیاں} \quad \text{دہائیاں} \quad \text{سینکڑے} \\ 7 \quad 6 \quad 5 \\ - \quad \quad 8 \quad 6 \\ \hline \end{array}$$

$$\begin{array}{r} \text{اکائیاں} \quad \text{دہائیاں} \quad \text{سینکڑے} \\ 3 \quad 4 \quad 0 \\ - \quad \quad 5 \quad 9 \\ \hline \end{array}$$

$$\begin{array}{r} \text{اکائیاں} \quad \text{دہائیاں} \quad \text{سینکڑے} \\ 5 \quad 7 \quad 8 \\ - \quad \quad 9 \quad 3 \\ \hline \end{array}$$

$$\begin{array}{r} \text{اکائیاں} \quad \text{دہائیاں} \quad \text{سینکڑے} \\ 4 \quad 6 \quad 1 \\ - \quad \quad 3 \quad 5 \\ \hline \end{array}$$

$$\begin{array}{r} \text{اکائیاں} \quad \text{دہائیاں} \quad \text{سینکڑے} \\ 8 \quad 3 \quad 6 \\ - \quad \quad 1 \quad 7 \\ \hline \end{array}$$

$$\begin{array}{r} \text{اکائیاں} \quad \text{دہائیاں} \quad \text{سینکڑے} \\ 5 \quad 0 \quad 1 \\ - \quad \quad 1 \quad 4 \\ \hline \end{array}$$

$$\begin{array}{r} \text{اکائیاں} \quad \text{دہائیاں} \quad \text{سینکڑے} \\ 5 \quad 3 \quad 2 \\ - \quad \quad 1 \quad 4 \\ \hline \end{array}$$

$$\begin{array}{r} \text{اکائیاں} \quad \text{دہائیاں} \quad \text{سینکڑے} \\ 6 \quad 5 \quad 0 \\ - \quad \quad 6 \quad 5 \\ \hline \end{array}$$

$$\begin{array}{r} \text{اکائیاں} \quad \text{دہائیاں} \quad \text{سینکڑے} \\ 4 \quad 0 \quad 9 \\ - \quad \quad 6 \quad 5 \\ \hline \end{array}$$

312 اور 158 کا فرق معلوم کیجیے۔

پہلا قدم:

اکائیوں کا فرق

2 اکائیوں میں سے 8
اکائیاں تفریق نہیں ہو سکتیں۔
1 دہائی کو اکائیوں کے ساتھ ملایا۔
 $12 - 8 = 4$

$$\begin{array}{r} \text{اکائیاں} \quad \text{دہائیاں} \quad \text{سینکڑے} \\ 3 \quad 0 \quad 1 \quad 2 \\ - 1 \quad 5 \quad 8 \\ \hline 4 \end{array}$$

دوسرا قدم:

دہائیوں کا فرق

بغیر 0 دہائی سے 5 دہائیاں نہیں
نکل سکتیں۔ سینکڑوں سے ایک
سینکڑا کے 0 دہائیوں کو 10 بنا لیا
اور $10 - 5 = 5$

$$\begin{array}{r} \text{اکائیاں} \quad \text{دہائیاں} \quad \text{سینکڑے} \\ 2 \quad 3 \quad 1 \quad 2 \\ - 1 \quad 5 \quad 8 \\ \hline 5 \quad 4 \end{array}$$

تیسرا قدم:

سینکڑوں کا فرق

دو سینکڑوں میں سے
سینکڑا تفریق کیا۔

$$\begin{array}{r} \text{اکائیاں} \quad \text{دہائیاں} \quad \text{سینکڑے} \\ 2 \quad 3 \quad 1 \quad 2 \\ - 1 \quad 5 \quad 8 \\ \hline 1 \quad 5 \quad 4 \end{array}$$

درج ذیل اعداد کا فرق معلوم کیجیے۔

$$\begin{array}{r} \text{اکائیاں} \quad \text{دہائیاں} \quad \text{سینکڑے} \\ 3 \quad 8 \quad 1 \\ - 1 \quad 9 \quad 7 \\ \hline \end{array}$$

$$\begin{array}{r} \text{اکائیاں} \quad \text{دہائیاں} \quad \text{سینکڑے} \\ 4 \quad 6 \quad 4 \\ - 3 \quad 5 \quad 2 \\ \hline \end{array}$$

$$\begin{array}{r} \text{اکائیاں} \quad \text{دہائیاں} \quad \text{سینکڑے} \\ 3 \quad 1 \quad 7 \\ - 1 \quad 6 \quad 3 \\ \hline \end{array}$$

$$\begin{array}{r} \text{اکائیاں} \quad \text{دہائیاں} \quad \text{سینکڑے} \\ 4 \quad 7 \quad 8 \\ - 2 \quad 9 \quad 5 \\ \hline \end{array}$$

$$\begin{array}{r} \text{اکائیاں} \quad \text{دہائیاں} \quad \text{سینکڑے} \\ 5 \quad 6 \quad 3 \\ - 1 \quad 8 \quad 6 \\ \hline \end{array}$$

$$\begin{array}{r} \text{اکائیاں} \quad \text{دہائیاں} \quad \text{سینکڑے} \\ 3 \quad 0 \quad 7 \\ - 1 \quad 5 \quad 5 \\ \hline \end{array}$$

$$\begin{array}{r} \text{اکائیاں} \quad \text{دہائیاں} \quad \text{سینکڑے} \\ 8 \quad 0 \quad 5 \\ - 2 \quad 3 \quad 4 \\ \hline \end{array}$$

$$\begin{array}{r} \text{اکائیاں} \quad \text{دہائیاں} \quad \text{سینکڑے} \\ 4 \quad 3 \quad 7 \\ - 1 \quad 6 \quad 5 \\ \hline \end{array}$$

$$\begin{array}{r} \text{اکائیاں} \quad \text{دہائیاں} \quad \text{سینکڑے} \\ 8 \quad 6 \quad 5 \\ - 4 \quad 8 \quad 3 \\ \hline \end{array}$$

$$\begin{array}{r} \text{اکائیاں} \quad \text{دہائیاں} \quad \text{سینکڑے} \\ 4 \quad 0 \quad 0 \\ - 2 \quad 6 \quad 4 \\ \hline \end{array}$$

$$\begin{array}{r} \text{اکائیاں} \quad \text{دہائیاں} \quad \text{سینکڑے} \\ 2 \quad 1 \quad 5 \\ - 1 \quad 0 \quad 8 \\ \hline \end{array}$$

$$\begin{array}{r} \text{اکائیاں} \quad \text{دہائیاں} \quad \text{سینکڑے} \\ 8 \quad 0 \quad 9 \\ - 5 \quad 6 \quad 0 \\ \hline \end{array}$$

$$\begin{array}{r} \text{اکائیاں} \quad \text{دہائیاں} \quad \text{سینکڑے} \\ 7 \quad 8 \quad 0 \\ - 6 \quad 6 \quad 5 \\ \hline \end{array}$$

$$\begin{array}{r} \text{اکائیاں} \quad \text{دہائیاں} \quad \text{سینکڑے} \\ 8 \quad 1 \quad 5 \\ - 6 \quad 6 \quad 5 \\ \hline \end{array}$$

$$\begin{array}{r} \text{اکائیاں} \quad \text{دہائیاں} \quad \text{سینکڑے} \\ 7 \quad 3 \quad 0 \\ - 6 \quad 6 \quad 5 \\ \hline \end{array}$$

3784 اور 2362 کا فرق معلوم کیجیے۔

پہلا قدم:

اکائیوں میں سے اکائیاں تفریق کیجیے۔

$$\begin{array}{r} \text{اکائیاں} \quad \text{دہائیاں} \quad \text{سینکڑے} \quad \text{ہزار} \\ 3 \quad 7 \quad 8 \quad 4 \\ - 2 \quad 3 \quad 6 \quad 2 \\ \hline 2 \end{array}$$

دوسرا قدم:

دہائیوں میں سے دہائیاں تفریق کیجیے۔

$$\begin{array}{r} \text{اکائیاں} \quad \text{دہائیاں} \quad \text{سینکڑے} \quad \text{ہزار} \\ 3 \quad 7 \quad 8 \quad 4 \\ - 2 \quad 3 \quad 6 \quad 2 \\ \hline 2 \quad 2 \end{array}$$

تیسرا قدم:

سینکڑوں میں سے سینکڑے تفریق کیجیے۔

$$\begin{array}{r} \text{اکائیاں} \quad \text{دہائیاں} \quad \text{سینکڑے} \quad \text{ہزار} \\ 3 \quad 7 \quad 8 \quad 4 \\ - 2 \quad 3 \quad 6 \quad 2 \\ \hline 4 \quad 2 \quad 2 \end{array}$$

چوتھا قدم:

ہزاروں میں ہزار تفریق کیجیے۔

$$\begin{array}{r} \text{اکائیاں} \quad \text{دہائیاں} \quad \text{سینکڑے} \quad \text{ہزار} \\ 3 \quad 7 \quad 8 \quad 4 \\ - 2 \quad 3 \quad 6 \quad 2 \\ \hline 1 \quad 4 \quad 2 \quad 2 \end{array}$$

تفریق کیجیے۔

$$\begin{array}{r} \text{اکائیاں} \quad \text{دہائیاں} \quad \text{سینکڑے} \quad \text{ہزار} \\ 5 \quad 3 \quad 2 \quad 4 \\ - 3 \quad 1 \quad 1 \quad 1 \\ \hline \end{array}$$

$$\begin{array}{r} \text{اکائیاں} \quad \text{دہائیاں} \quad \text{سینکڑے} \quad \text{ہزار} \\ 5 \quad 9 \quad 4 \quad 4 \\ - 4 \quad 8 \quad 1 \quad 0 \\ \hline \end{array}$$

$$\begin{array}{r} \text{اکائیاں} \quad \text{دہائیاں} \quad \text{سینکڑے} \quad \text{ہزار} \\ 2 \quad 3 \quad 5 \quad 3 \\ - 1 \quad 1 \quad 4 \quad 2 \\ \hline \end{array}$$

$$\begin{array}{r} \text{اکائیاں} \quad \text{دہائیاں} \quad \text{سینکڑے} \quad \text{ہزار} \\ 3 \quad 6 \quad 8 \quad 7 \\ - 2 \quad 1 \quad 5 \quad 6 \\ \hline \end{array}$$

$$\begin{array}{r} \text{اکائیاں} \quad \text{دہائیاں} \quad \text{سینکڑے} \quad \text{ہزار} \\ 3 \quad 6 \quad 4 \quad 7 \\ - 1 \quad 2 \quad 2 \quad 0 \\ \hline \end{array}$$

$$\begin{array}{r} \text{اکائیاں} \quad \text{دہائیاں} \quad \text{سینکڑے} \quad \text{ہزار} \\ 9 \quad 2 \quad 8 \quad 8 \\ - 2 \quad 1 \quad 3 \quad 1 \\ \hline \end{array}$$

$$\begin{array}{r} \text{اکائیاں} \quad \text{دہائیاں} \quad \text{سینکڑے} \quad \text{ہزار} \\ 5 \quad 4 \quad 7 \quad 2 \\ - 2 \quad 1 \quad 6 \quad 1 \\ \hline \end{array}$$

$$\begin{array}{r} \text{اکائیاں} \quad \text{دہائیاں} \quad \text{سینکڑے} \quad \text{ہزار} \\ 2 \quad 5 \quad 8 \quad 4 \\ - 1 \quad 3 \quad 1 \quad 0 \\ \hline \end{array}$$

$$\begin{array}{r} \text{اکائیاں} \quad \text{دہائیاں} \quad \text{سینکڑے} \quad \text{ہزار} \\ 4 \quad 2 \quad 7 \quad 5 \\ - 1 \quad 1 \quad 4 \quad 4 \\ \hline \end{array}$$

$$\begin{array}{r} \text{اکائیاں} \quad \text{دہائیاں} \quad \text{سینکڑے} \quad \text{ہزار} \\ 5 \quad 9 \quad 4 \quad 3 \\ - 2 \quad 3 \quad 2 \quad 0 \\ \hline \end{array}$$

4381 میں سے 1658 تفریق کریں۔

پہلا قدم:

اکائیوں میں سے اکائیاں تفریق کیجیے۔

$$\begin{array}{r} \text{اکائیاں} \quad \text{دہائیاں} \quad \text{سینکڑے} \quad \text{ہزار} \\ 4 \quad 3 \quad 7 \quad 8 \quad 1 \quad 1 \\ - 1 \quad 6 \quad 5 \quad 8 \\ \hline 3 \end{array}$$

1 اکائی سے 8 اکائیاں تفریق نہیں ہوتیں 8 دہائی سے 1 دہائی حاصل کی اور 8 - (1 + 1) کیا جو 3 اکائیاں ہیں۔

دوسرا قدم:

دہائیوں میں سے دہائیاں تفریق کیجیے۔

$$\begin{array}{r} \text{اکائیاں} \quad \text{دہائیاں} \quad \text{سینکڑے} \quad \text{ہزار} \\ 4 \quad 3 \quad 7 \quad 8 \quad 1 \quad 1 \\ - 1 \quad 6 \quad 5 \quad 8 \\ \hline 2 \quad 3 \end{array}$$

بقیہ 7 دہائیوں سے 5 دہائیاں تفریق کیں۔
 $7 - 5 = 2$

تیسرا قدم:

سینکڑوں میں سے سینکڑے تفریق کیجیے۔

$$\begin{array}{r} \text{اکائیاں} \quad \text{دہائیاں} \quad \text{سینکڑے} \quad \text{ہزار} \\ 3 \quad 4 \quad 1 \quad 3 \quad 7 \quad 8 \quad 1 \quad 1 \\ - 1 \quad 6 \quad 5 \quad 8 \\ \hline 7 \quad 2 \quad 3 \end{array}$$

3 سینکڑوں سے 6 سینکڑے تفریق نہیں ہوتے۔ 4 ہزار سے 1 ہزار لیا اور سینکڑوں میں شامل کیا جو 13 سینکڑے بن گئے۔ یوں $13 - 6 = 7$ حاصل ہوا۔

چوتھا قدم:

ہزاروں میں ہزار تفریق کیجیے۔

$$\begin{array}{r} \text{اکائیاں} \quad \text{دہائیاں} \quad \text{سینکڑے} \quad \text{ہزار} \\ 3 \quad 4 \quad 1 \quad 3 \quad 7 \quad 8 \quad 1 \quad 1 \\ - 1 \quad 6 \quad 5 \quad 8 \\ \hline 2 \quad 7 \quad 2 \quad 3 \end{array}$$

بقیہ 3 ہزار سے 1 ہزار تفریق کیا۔ یوں $3 - 1 = 2$ ہزار حاصل ہوئے۔

تفریق کیجیے۔

اکائیاں دہائیاں سینکڑے ہزار

$$\begin{array}{r} 5322 \\ - 4051 \\ \hline \end{array}$$

اکائیاں دہائیاں سینکڑے ہزار

$$\begin{array}{r} 4242 \\ - 1023 \\ \hline \end{array}$$

اکائیاں دہائیاں سینکڑے ہزار

$$\begin{array}{r} 9253 \\ - 3512 \\ \hline \end{array}$$

اکائیاں دہائیاں سینکڑے ہزار

$$\begin{array}{r} 5554 \\ - 1325 \\ \hline \end{array}$$

اکائیاں دہائیاں سینکڑے ہزار

$$\begin{array}{r} 9531 \\ - 8004 \\ \hline \end{array}$$

اکائیاں دہائیاں سینکڑے ہزار

$$\begin{array}{r} 5137 \\ - 2515 \\ \hline \end{array}$$

اکائیاں دہائیاں سینکڑے ہزار

$$\begin{array}{r} 7813 \\ - 1362 \\ \hline \end{array}$$

اکائیاں دہائیاں سینکڑے ہزار

$$\begin{array}{r} 7422 \\ - 2362 \\ \hline \end{array}$$


اکائیاں دہائیاں سینکڑے ہزار

$$\begin{array}{r} 5438 \\ - 3627 \\ \hline \end{array}$$

اکائیاں دہائیاں سینکڑے ہزار

$$\begin{array}{r} 6869 \\ - 4377 \\ \hline \end{array}$$

روزمرہ زندگی میں تفریق کے متعلقہ مسائل پر سوالات



عابد کے پاس فارم میں 16 بکریاں تھیں۔

اس نے 5 بکریاں فروخت کر دیں۔

اب اُس کے پاس کتنی بکریاں ہیں؟

$$\begin{array}{r}
 \text{عابد کے پاس بکریوں کی تعداد} \quad 16 \\
 \text{جتنی بکریاں فروخت کیں} \quad - 5 \\
 \hline
 \text{فروخت کے بعد بکریوں کی تعداد} \quad 11
 \end{array}$$

عابد کے پاس اپنے فارم میں 11 بکریاں رہ گئیں۔

ثناء کے پاس 148 ٹافیاں تھیں۔ اُس نے 35 ٹافیاں اپنی سہیلیوں کو دے دیں۔

اب اُس کے پاس کتنی ٹافیاں ہیں؟

$$\begin{array}{r}
 \text{ثناء کے پاس ٹافیوں کی تعداد} \quad 148 \\
 \text{ٹافیوں کی تعداد جو سہیلیوں کو دی} \quad - 35 \\
 \hline
 \text{باقی ٹافیوں کی تعداد} \quad 113
 \end{array}$$


113 ٹافیاں بچ گئیں۔

1 احمد کے پاس 15 بسکٹ تھے۔ اُس نے 9 بسکٹ کھالیے۔

اب اُس کے پاس کتنے بسکٹ بچے؟

2 ایک درخت پر 29 پرندے تھے۔ اُس میں 13 پرندے اُڑ گئے۔

باقی کتنے پرندے رہ گئے؟



3 سیب کے درخت پر 43 سیب لگے ہوئے تھے۔

اُن میں سے 12 سیب نیچے گر گئے۔

اب درخت پر سیبوں کی تعداد کتنی ہے؟

4 حارث کے پاس 153 سکے تھے۔ اُس نے 32 سکے اپنے بھائی کو دیئے۔

اب حارث کے پاس کتنے سکے ہیں؟

5 ثناء کے پاس 377 موم بتیاں تھیں۔ اُس نے 240 موم بتیاں استعمال کر لیں۔

اب ثناء کے پاس کتنی موم بتیاں ہیں؟

6 ایک ہال میں 345 لوگ تھے۔ اُن میں سے 132 لوگ باہر چلے گئے۔

اب ہال میں کتنے لوگ رہ گئے؟

7 عرفان کے پاس 175 انڈے تھے۔ اُس نے 38 انڈے فروخت کر دیئے۔

اب اُس کے پاس کتنے انڈے ہیں؟