



## مسلسل تفریق اور تقسیم




علی کی امی کے پاس 9 بسکٹ ہیں۔



وہ 3 بسکٹ علی کو دیتی ہے۔

$$9 - 3 = 6$$

اب اُس کے پاس 6 بسکٹ بچے۔



وہ 3 بسکٹ ثناء کو دیتی ہے۔

$$6 - 3 = 3$$

اُس کے پاس 3 بسکٹ رہ گئے۔



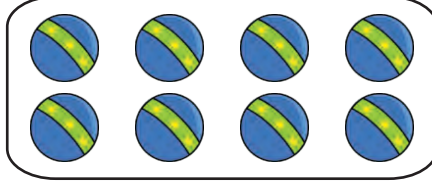
وہ 3 بسکٹ احمد کو دے دیتی ہے۔

$$3 - 3 = 0$$

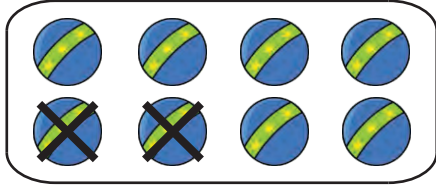
اب اُس کے پاس 0 بسکٹ ہے۔

اس عمل کو مسلسل تفریق کا عمل کہتے ہیں۔

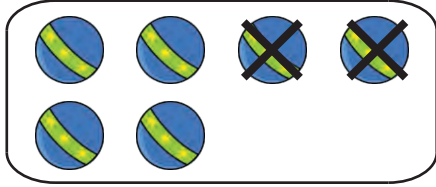
ایک ڈبے میں 8 بسکٹ ہیں۔



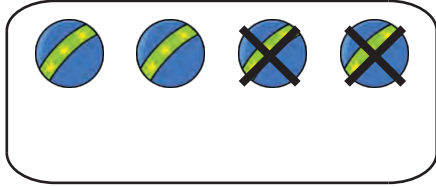
بتائیے ہم 2 کو 8 میں سے کتنی بار تفریق کریں کہ باقی صفر '0' بچے۔



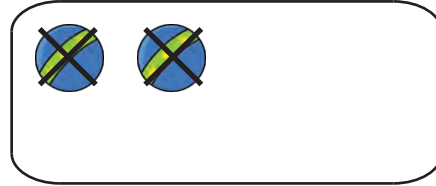
$$8 - 2 = 6 \quad \text{پہلی دفعہ}$$



$$6 - 2 = 4 \quad \text{دوسری بار}$$




$$4 - 2 = 2 \quad \text{تیسری بار}$$



$$2 - 2 = 0 \quad \text{چوتھی بار}$$

ہم 2 کو 8 میں سے 4 بار نکال سکتے ہیں۔

اشیاء کو گننے کے بعد ان میں سے 2، 2 کر کے تفریق کرتے جائیں  
یہاں تک کہ باقی 0 (صفر) شے رہ جائے۔




$$\begin{array}{r} 6 - 2 = 4 \\ 4 - 2 = 2 \\ 2 - 2 = 0 \end{array}$$

ہم 2 کو..... بار تفریق کر سکتے ہیں۔



$$\begin{array}{r} \underline{\quad} - 2 = \underline{\quad} \\ \underline{\quad} - 2 = \underline{\quad} \\ \underline{\quad} - 2 = \underline{\quad} \\ \underline{\quad} - 2 = \underline{\quad} \\ \underline{\quad} - 2 = \underline{\quad} \end{array}$$

ہم 2 کو..... بار تفریق کر سکتے ہیں۔



$$\begin{array}{r} \underline{\quad} - 2 = \underline{\quad} \\ \underline{\quad} - 2 = \underline{\quad} \\ \underline{\quad} - 2 = \underline{\quad} \\ \underline{\quad} - 2 = \underline{\quad} \end{array}$$

ہم 2 کو..... بار تفریق کر سکتے ہیں۔

## تقسیم

علی کے پاس 6 گیند ہیں۔  
وہ انہیں دو ڈبوں میں برابر برابر تعداد میں رکھتا ہے۔



$$6 \div 2 = 3$$

6 تقسیم 2 برابر 3  
ہر ایک ڈبہ میں 3 تین گیند ہیں۔

تقسیم کی علامت  $\div$  ہے۔

اب علی ان گیندوں کو 3 ڈبوں میں برابر برابر تعداد میں رکھتا ہے۔



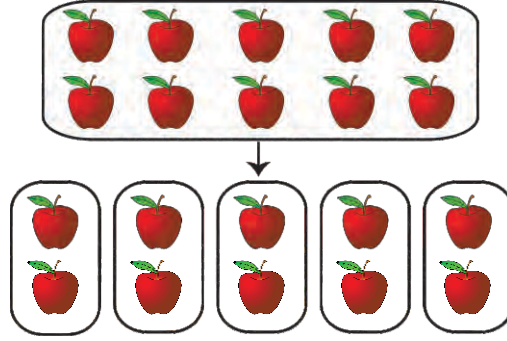
$$6 \div 3 = 2$$

6 تقسیم 3 برابر 2  
ہر ایک ڈبہ میں 2 دو گیند ہیں۔

ایک ڈبہ میں 10 سیب ہیں۔

ہم ان سیبوں کو 5 ڈبوں میں برابر برابر تعداد میں رکھتے ہیں۔

ہر ایک ڈبہ میں کتنے سیب ہوں گے؟



$$10 \div 5 = 2$$

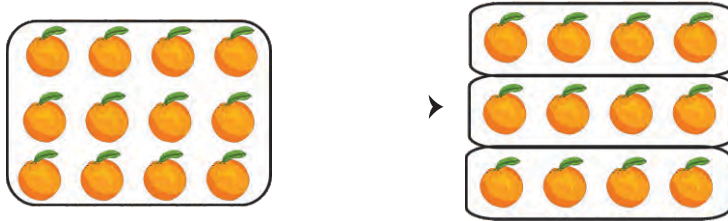
10 تقسیم 5 برابر ہے۔

ہم ہر ایک ڈبہ میں 2 سیب رکھیں گے۔

ایک ڈبہ میں 12 سنگترے ہیں۔

ہم ان سنگتروں کو 3 ڈبوں میں برابر تعداد میں رکھتے ہیں۔

ہر ایک ڈبہ میں کتنے سنگترے ہوں گے؟




$$12 \div 3 = 4$$

12 تقسیم 3 برابر ہے 4 ہر ایک ڈبہ میں 4 چار سنگترے ہوں گے۔

اشیاء کو تقسیم کریں اور خالی جگہ میں جواب لکھیے۔




$$8 \div 4 = \underline{\quad}$$



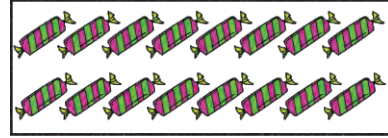
$$9 \div 3 = \underline{\quad}$$



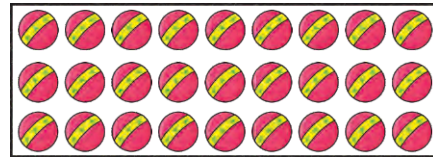
$$12 \div 6 = \underline{\quad}$$




$$15 \div 5 = \underline{\quad}$$




$$16 \div 8 = \underline{\quad}$$



$$27 \div 3 = \underline{\quad}$$



$$10 \div 5 = \underline{\quad}$$



$$14 \div 7 = \underline{\quad}$$

انعم نے 15 بسکٹ بنائے۔



وہ ان بسکٹوں کو 3 ڈبوں میں برابر برابر رکھتی ہے۔  
بتائیے وہ ہر ایک ڈبہ میں کتنے کتنے بسکٹ رکھتی ہے؟

$$15 \div 3 = ?$$

3 کا پہاڑ ایا دیجیے۔

$$1 \times 3 = 3$$

$$2 \times 3 = 6$$

$$3 \times 3 = 9$$

$$4 \times 3 = 12$$

$$5 \times 3 = 15$$

5 بار 3 برابر ہے 15

15 تقسیم 3 برابر ہے 5

$$15 \div 3 = 5$$

وہ ایک ہر ڈبہ میں 5 بسکٹ رکھتی ہے۔



تقسیم کر کے خالی جگہوں میں جواب لکھیے۔

$4 \div 2 = \underline{\quad}$

$6 \div 2 = \underline{\quad}$

$9 \div 3 = \underline{\quad}$

$8 \div 4 = \underline{\quad}$

$10 \div 5 = \underline{\quad}$

$25 \div 5 = \underline{\quad}$

$16 \div 4 = \underline{\quad}$

$18 \div 9 = \underline{\quad}$

$21 \div 3 = \underline{\quad}$

$56 \div 8 = \underline{\quad}$

$42 \div 7 = \underline{\quad}$

$30 \div 6 = \underline{\quad}$

$6 \div 3 = \underline{\quad}$

$15 \div 3 = \underline{\quad}$

$28 \div 4 = \underline{\quad}$

$35 \div 7 = \underline{\quad}$

$64 \div 8 = \underline{\quad}$

$90 \div 9 = \underline{\quad}$

$72 \div 8 = \underline{\quad}$

$16 \div 2 = \underline{\quad}$

$18 \div 6 = \underline{\quad}$

$20 \div 4 = \underline{\quad}$

$10 \div 2 = \underline{\quad}$

$40 \div 10 = \underline{\quad}$



28 کو 2 پر تقسیم کریں۔

$$28 \div 2$$

پہلا قدم:

سوال کو سامنے دی ہوئی شکل میں لکھیے۔

$$2 \overline{) 28}$$

دوسرا قدم:

تقسیم کا عمل بائیں طرف سے شروع کرتے ہیں۔ 2 کو 2 پر تقسیم کرتے ہیں۔

$2 \times 1 = 2$  so,  
 $2 \div 2 = 1$

$$\begin{array}{r} 1 \\ 2 \overline{) 28} \\ \underline{-2} \phantom{0} \\ 0 \end{array}$$

تیسرا قدم:

8 کو 2 پر تقسیم کریں۔

$2 \times 4 = 8$  so,  
 $8 \div 2 = 4$

$$\begin{array}{r} 1 \quad 4 \\ 2 \overline{) 28} \\ \underline{-2} \phantom{0} \downarrow \\ 0 \quad 8 \\ \underline{-8} \\ 0 \end{array}$$

$$28 \div 2 = 14$$

تقسیم کا عمل مکمل کیجیے۔

$$3 \sqrt{39}$$

$$2 \sqrt{26}$$

$$5 \sqrt{50}$$

$$6 \sqrt{66}$$

$$3 \sqrt{36}$$

$$5 \sqrt{55}$$

$$4 \sqrt{48}$$

$$3 \sqrt{63}$$

$$4 \sqrt{84}$$

$$2 \sqrt{62}$$

$$3 \sqrt{96}$$

$$2 \sqrt{46}$$

75 کو 5 پر تقسیم کیجیے۔

$$75 \div 5$$

پہلا قدم:  
سوال کو سامنے دی ہوئی شکل میں لکھیے۔

$$5 \overline{) 75}$$

دوسرا قدم:  
تقسیم کا عمل بائیں طرف سے شروع کریں۔

7 کو 5 پر تقسیم کریں۔  
باقی 2 بنے

$$\begin{array}{r} 1 \\ 5 \overline{) 75} \\ - 5 \\ \hline 2 \end{array}$$

تیسرا قدم:  
5 نیچے اتارتے ہیں۔

$$\begin{array}{r} 15 \\ 5 \overline{) 75} \\ - 5 \downarrow \\ \hline 25 \\ - 25 \\ \hline 0 \end{array}$$

یوں  $5 \times 5 = 25$   
 $25 \div 5 = 5$

پس:  $75 \div 5 = 15$

تقسیم کیجیے۔

$$4 \sqrt{72}$$

$$2 \sqrt{34}$$

$$3 \sqrt{45}$$

$$7 \sqrt{84}$$

$$5 \sqrt{65}$$

$$8 \sqrt{96}$$

$$6 \sqrt{90}$$

$$5 \sqrt{85}$$

$$2 \sqrt{46}$$

$$4 \sqrt{52}$$

$$5 \sqrt{90}$$

$$3 \sqrt{72}$$

## روزمرہ زندگی میں تقسیم کے متعلقہ سوالات

28 بسکٹ ہیں۔ ان بسکٹوں کو 7 ڈبوں میں یکساں تعداد میں رکھا گیا ہے۔

بتائیے ہر ایک ڈبہ میں کتنے بسکٹ رکھے گئے ہیں؟

$$28 \div 7 = ?$$



بسکٹوں کی کل تعداد 28 ہے۔



بسکٹوں کو 7 ڈبوں میں رکھا گیا ہے کہ ہر ڈبہ میں اُن کی تعداد برابر ہے۔

ہر ایک ڈبہ میں 4 بسکٹ ہیں۔

$$28 \div 7 = 4$$



1 مس آمنہ کے پاس 14 ٹافیاں ہیں۔  
وہ علی اور ثناء میں برابر تقسیم کر دیتی ہے۔  
بتائیے ہر ایک بچے کو کتنی کتنی ٹافیاں ملتی ہیں؟

2 احمد کے پاس 18 گیند ہیں۔ وہ 2 ڈبوں میں گیندوں کی مقدار یکساں طور پر رکھتا ہے۔ بتائیے اُس نے ہر ایک ڈبہ میں کتنے گیند رکھے؟

3 ایک اُستاد کے پاس 30 پنسلیں ہیں۔ جماعت میں ہر ایک طالب علم کو یکساں طور پر 3 پنسلیں ملتی ہیں۔  
بتائیے جماعت میں طالب علموں کی تعداد کتنی ہے؟



4 غبارے تعداد میں 24 ہیں۔ انہیں بچوں میں تقسیم کر دیا گیا ہے۔  
ہر ایک بچہ کو غبارے ملتے ہیں۔ بتائیے بچوں کی تعداد کتنی ہے؟

5 ایک پیکٹ میں 48 ٹافیاں ہیں۔  
انہیں 8 بچوں میں مساوی طور پر تقسیم کر دیا گیا ہے۔  
بتائیے ہر ایک بچہ کے حصہ میں کتنی کتنی ٹافیاں آتی ہیں؟