


باب 9: معلوماتی معاملات (Information Handling)



9.1 بار گراف (Bar Graph)

سارہ چار قسم کے پھل مختلف مقدار میں خریدتی ہے۔



وہ خریدے ہوئے ہر قسم کے پھل کی تعداد کو ظاہر کرنے کے لیے تصویری گراف استعمال کرتی ہے۔

● ● ● ●	● ● ●	● ●	● ● ● ● ●
آم	ماٹے	کیلے	سیب

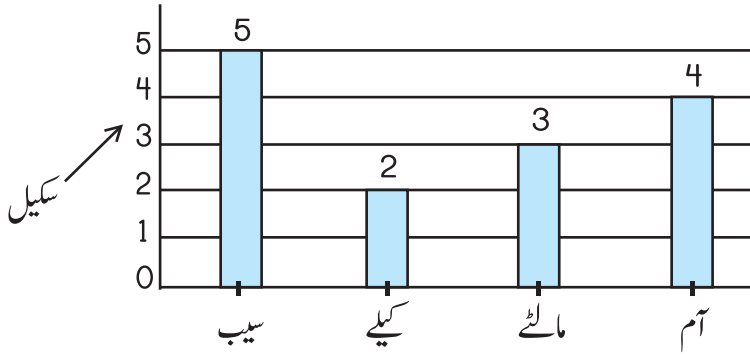
● ہر ایک پھل کی نشاندہی کرتا ہے۔

ہم ہر کالم میں موجود ● کی تعداد گن کر تصویری گراف کو پڑھ سکتے ہیں۔

سارہ نے 5 سیب، 2 کیلے، 3 ماٹے اور 4 آم خریدے۔

ہم اس مواد کو عمودی بار گراف سے بھی ظاہر کر سکتے ہیں۔

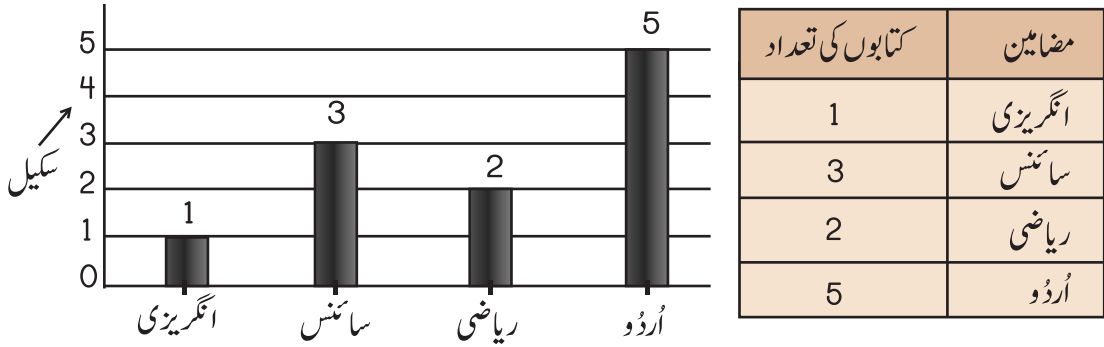
مواد کو ظاہر کرنے کے لیے بار گراف میں تصویروں کی جگہ بارز (Bars) کو استعمال کیا جاتا ہے۔



بار گراف کے سکیل کی مدد سے ہم معلوم کر سکتے ہیں کہ سارہ نے کتنے سیب، کیلے، مالٹے اور آم خریدے۔ سیبوں پر موجود بار 5 تک، کیلوں پر موجود بار 2 تک، مالٹوں پر موجود بار 3 تک اور آموں پر موجود بار 4 تک جا رہا ہے۔

احمد نے مختلف مضامین کی کتابیں جمع کیں۔ جیسا کہ جدول سے ظاہر ہے۔

ہم اعداد و شمار کو بار گراف سے بھی ظاہر کر سکتے ہیں۔

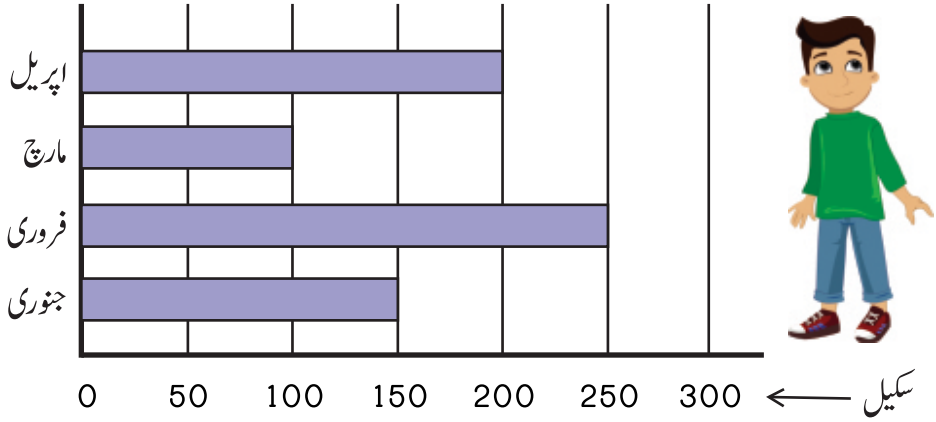


سکیل کی مدد سے احمد کے پاس موجود کتابوں کی تعداد لکھیے۔

- انگریزی : سکیل 1 ظاہر کر رہا ہے کہ احمد کے پاس انگریزی کی 1 کتاب ہے۔
- سائنس : سکیل 3 ظاہر کر رہا ہے کہ احمد کے پاس سائنس کی 3 کتابیں ہیں۔
- ریاضی : سکیل 2 ظاہر کر رہا ہے کہ احمد کے پاس ریاضی کی 2 کتابیں ہیں۔
- اُردو : سکیل 5 ظاہر کر رہا ہے کہ احمد کے پاس اُردو کی 5 کتابیں ہیں۔

ہم اس مواد کو اُنفتی بار گراف سے بھی ظاہر کر سکتے ہیں۔

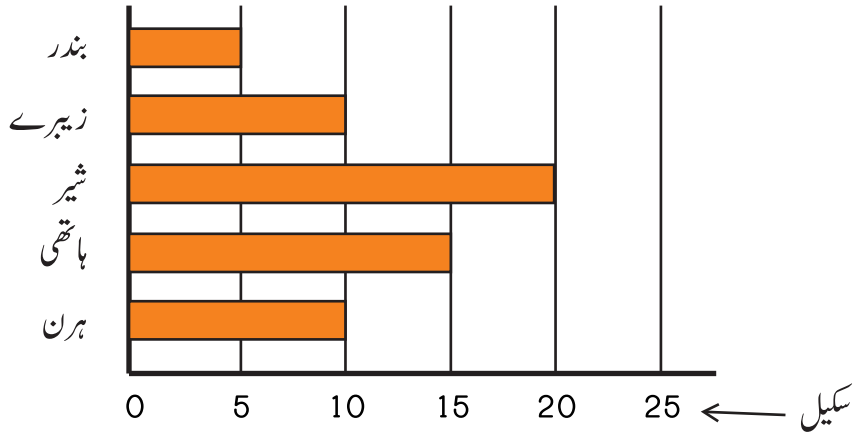
ایک دکاندار نے 4 ماہ میں جتنے کھلونے فروخت کیے، ان کی تعداد دیے گئے اُنفتی بار گراف سے ظاہر ہے۔



ہر ماہ میں فروخت کیے گئے کھلونوں کی تعداد بار گراف سے پڑھی جاسکتی ہے۔

250	فروری	150	جنوری
200	اپریل	100	مارچ

چڑیا گھر میں رکھے گئے مختلف جانوروں کی تعداد بار گراف سے ظاہر ہے۔

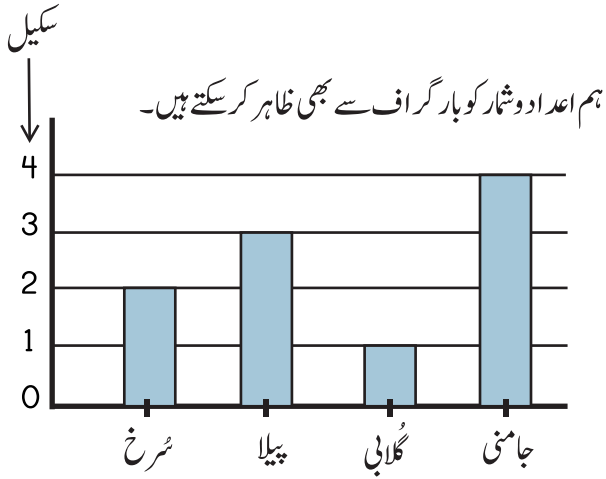


سکیل کو پڑھیے اور جانوروں کی تعداد لکھیے۔

_____ شیر	_____ زیبرے	_____ بندر
_____ ہرن	_____ ہاتھی	

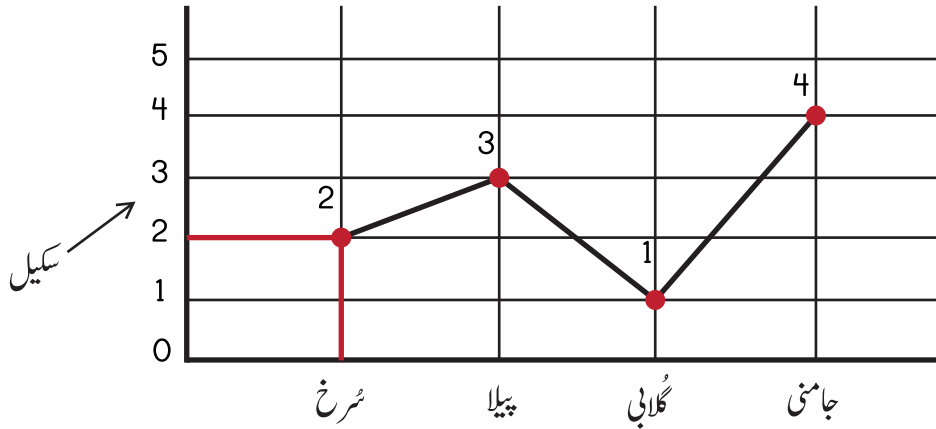
9.2 بارگراف (Line Graph)

احمد کے پاس 4 مختلف رنگوں کے پھول ہیں۔ نیچے دیا گیا جدول احمد کے پاس موجود مختلف رنگوں کے پھولوں کی تعداد کو ظاہر کر رہا ہے۔



رنگ	پھولوں کی تعداد
سُرخ	2
پیلا	3
گلابی	1
جامنی	4

ہم مواد کو خطی گراف سے بھی ظاہر کر سکتے ہیں، خطی گراف پر بارز کی بجائے ہم صرف نقطے لگاتے ہیں اور انہیں لکیر کے ذریعے آپس میں ملا دیتے ہیں۔



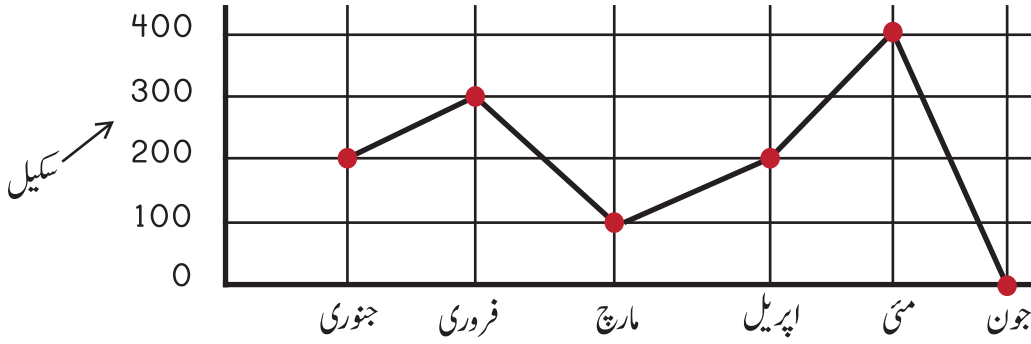
ہم خطی گراف پر سکیل کو پڑھ سکتے ہیں۔

سُرخ رنگ کے نقطے کی طرف دیکھیے۔ سکیل پر یہ 2 پر موجود ہے۔ اس کا مطلب یہ ہے کہ احمد کے پاس 2 سُرخ پھول ہیں۔

اسی طرح سکیل یہ بھی ظاہر کرتا ہے کہ احمد کے پاس 3 پیلے پھول، 1 گلابی پھول اور 4 جامنی پھول ہیں۔

خطی گراف میں مواد کو ظاہر کرنے کے لیے لکیروں کا استعمال کیا جاتا ہے۔

علی ہر ماہ کچھ رقم بچاتا ہے۔ نیچے دیا گیا گراف ہر ماہ میں علی کی بچت کو ظاہر کر رہا ہے۔

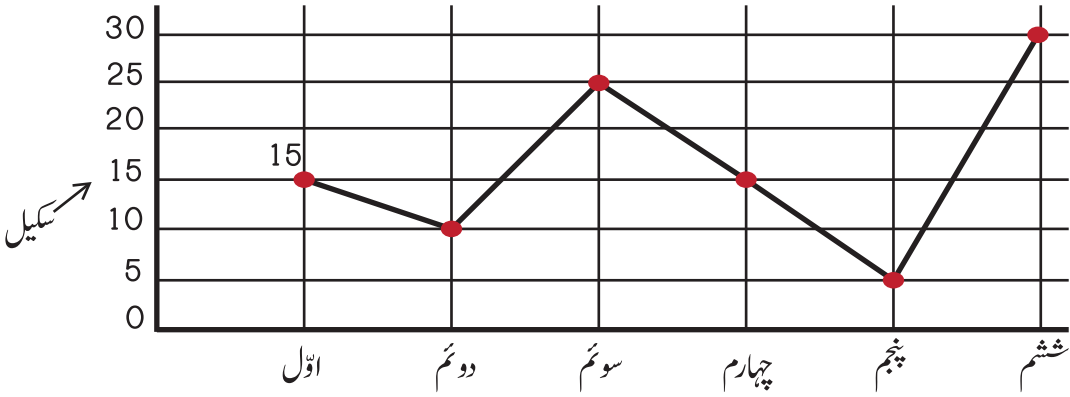


علی کی ہر ماہ کی بچت کی ہوئی رقم لکھیے۔

_____	100	_____	300	_____	200
_____	0	_____	400	_____	200
_____	_____	_____	_____	_____	_____
_____	_____	_____	_____	_____	_____

نیچے دیے گئے خطی گراف پر غور کیجیے۔

دیا گیا خطی گراف ایک اسکول کی مختلف جماعتوں میں موجود طلبہ کی تعداد کو ظاہر کر رہا ہے۔



گراف کو غور سے پڑھیے اور ہر جماعت میں موجود طلبہ کی تعداد لکھیے۔

_____	_____	_____	15	_____	اول
_____	_____	_____	_____	_____	دوئم
_____	_____	_____	_____	_____	سوئم